



COLÉGIO NOSSA SENHORA DE FÁTIMA – SACRAMENTINAS

NOME: _____ Nº: _____

PROF.: _____ DISCIPLINA: _____

SÉRIE: 3º ANO TURMA: _____ DATA: _____

ATIVIDADE INTEGRADA - I UNIDADE

*Querido(a) aluno(a),
É tempo de cuidados...
Cuide-se, cuide de seus pais, de seus avós...
Mas, lembre-se que não está só!
É tempo de ficarmos em casa,
Vamos cuidar também de nossos estudos...
Preparei para você essa atividade,
Responda-a com responsabilidade!
Um abraço carinhoso, sua Pró.*

1- Leia o texto atentamente e, depois, responda às questões a seguir:

A guerra do tabuleiro de xadrez

Era uma vez um Tabuleiro de Xadrez.
E dois Meninos também eram uma vez.

Estiveram todo o dia a brincar os dois
com Reis, Rainhas, Bispos e Peões.
Sentados frente a frente, diante do Tabuleiro,
cada um comandava um exército inteiro
de Peças de madeira lutando ferozmente
como se, em vez de Peças, fossem gente.

Um combate começou então, bem ligeiro,
a travar-se no meio do tabuleiro.
O Rei, do topo da sua altura e admirado,
olhou de cima para as peças ao seu lado.

A guerra continuou, cada exército com sua sorte
e o barulho era, na verdade, cada vez mais forte.
O som era tão alto e foi zunindo,
que acabou acordando um menino.
Ele veio olhar o que era aquela confusão,
olhou para baixo e viu as peças com o tabuleiro no chão.



a) Qual é o título do texto?

b) De acordo com o texto, como os meninos estavam sentados?


c) Circule no texto a parte em o menino teve uma visão vertical das peças.

d) Pinte no texto os pares de rima que você encontrar.

e) **Agora é sua vez!!!** Crie uma estrofe dando um final diferente para o poema. Não esqueça das rimas.

f) Ilustre abaixo a estrofe que você criou. Utilize a sua criatividade e não esqueça de dar um belo colorido ao seu desenho.

2- Observando a cena e utilizando as palavras do quadro, complete corretamente:



VERTICAL - OBLÍQUA - FRONTAL

a) Na visão _____ olhamos o objeto exatamente de cima para baixo.

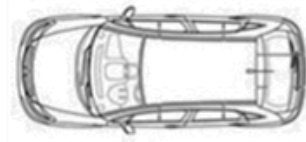

b) Na visão _____ olhamos o objeto de frente.

c) Na visão _____ olhamos o objeto do alto, porém de lado.


3- Enumere corretamente:





Visão Frontal



Visão Vertical



Visão Oblíqua



4- Escreva o que você aprendeu sobre:

a) Visão Frontal

b) Visão Vertical

c) Visão Oblíqua

5- Vamos fazer uma divertida cruzadinha? Complete-a com os nomes das peças de xadrez.

